
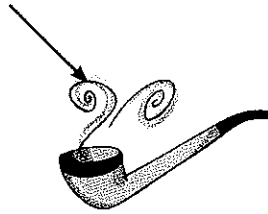




SOLIDI, LIQUIDI E GAS

- Osserva i disegni: rappresentano elementi solidi, liquidi e gassosi. Inserisci il loro nome nel riquadro giusto.



Solidi

.....

.....

.....

.....

.....

.....

.....

.....

Liquidi

.....

.....

.....

.....

.....

.....

.....

.....

Gas

.....

.....

.....

.....

.....

.....

.....

.....

Nome classe data

CHE COS'È L'ACQUA?

Leggi le frasi e completa colorando la parola adatta.

• Nel mare e negli oceani l'acqua è allo stato...

gassoso

liquido

solido

• Un ghiacciaio di montagna è formato da acqua allo stato...

liquido

solido

gassoso

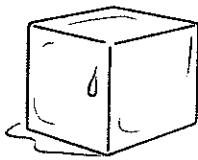
• Nelle nuvole c'è acqua allo stato...

solido

gassoso

liquido

Collega ogni disegno alla parola giusta.



GASSOSO

LIQUIDO

SOLIDO

Inserisci le parole nel giusto recinto.

mare • vapore • pioggia • neve • ghiaccio • nebbia

STATO LIQUIDO

STATO SOLIDO

STATO GASSOSO

PUNTI:/12