



**LA GIORNATA, LE ORE E LE ATTIVITÀ**


- Leggi le ore e disegna le lancette al posto giusto.




Sono le 7




Sono le 23:15




Sono le 15:20




Sono le 9:30




È mezzanotte




Sono le 8:40



Sono le 4



Sono le 18:10



Sono le 14:25

- Scegli, fra quelli indicati dagli orologi, due orari che si riferiscono al mattino e due orari che si riferiscono al pomeriggio. Poi trascrivili nella tabella e per ciascuno indica un'attività adatta.

Mattino	Pomeriggio
Ore .....	Ore .....
Attività .....	Attività .....
Ore .....	Ore .....
Attività .....	Attività .....

### LA LINEA DEL TEMPO

- Lucia ha frequentato la classe prima nell'anno scolastico 2014-2015.
  - Completa la linea del tempo della classe prima di Lucia con i mesi che mancano e collega le frasi alla linea.

14 settembre 2014 primo giorno di scuola	22 aprile 2015 gita alla fattoria	19 dicembre 2014 spettacolo di Natale
---	--------------------------------------	--

2014				2015					
settembre	ottobre	.....	dicembre	gennaio	.....	marzo	.....	.....	giugno

9 febbraio 2015 festa di Carnevale	11 giugno 2015 festa di fine anno	16 ottobre 2014 passeggiata nel bosco
---------------------------------------	--------------------------------------	--

- **Rispondi.**
  - Quali avvenimenti hai sistemato prima dello spettacolo di Natale?  
.....  
.....
  - E quali dopo?  
.....  
.....

© Giunti Scuola S. r. l. - Firenze

Nome ..... classe ..... data .....

NOME \_\_\_\_\_ COGNOME \_\_\_\_\_

### I giorni della settimana e i mesi dell'anno

A) Completa le frasi.

Se oggi è venerdì domani sarà \_\_\_\_\_.

Se ieri era mercoledì oggi è \_\_\_\_\_.

B) Completa l'elenco dei nomi dei mesi dell'anno.

1. Gennaio

2. Febbraio

3. \_\_\_\_\_

4. Aprile

5. Maggio

6. \_\_\_\_\_

7. Luglio

8. Agosto

9. \_\_\_\_\_

10. Ottobre

11. \_\_\_\_\_

12. Dicembre

### Le stagioni


C) Quale stagione è rappresentata? Scrivi il nome accanto all'immagine.



\_\_\_\_\_

### Le ore

D) Osserva gli orologi e scrivi che ore sono.



Sono le \_\_\_\_\_

Sono le \_\_\_\_\_

Sono le \_\_\_\_\_