

ALPI

A. Rispondi.

1. Come vengono comunemente divise le Alpi?
2. Qual è la vetta più alta delle Alpi e quanto misura?
3. Come si chiama il minerale di cui sono fatte le Dolomiti?
4. Rispetto alle Alpi Graie, in quale punto cardinale si trovano le Alpi Lepontine?
5. Che cosa sono le Prealpi?

B. Fai corrispondere con lo stesso numero ogni nome alla sua definizione.

1	GHIACCIAIO	galleria per attraversare una montagna
2	TRAFORO	valle scavata da un fiume
3	VALICO	grande massa di ghiaccio delle zone montane
4	VALLE A V	punto per passare da una valle a un'altra

C. Cancella l'attività economica meno sviluppata sulle Alpi.

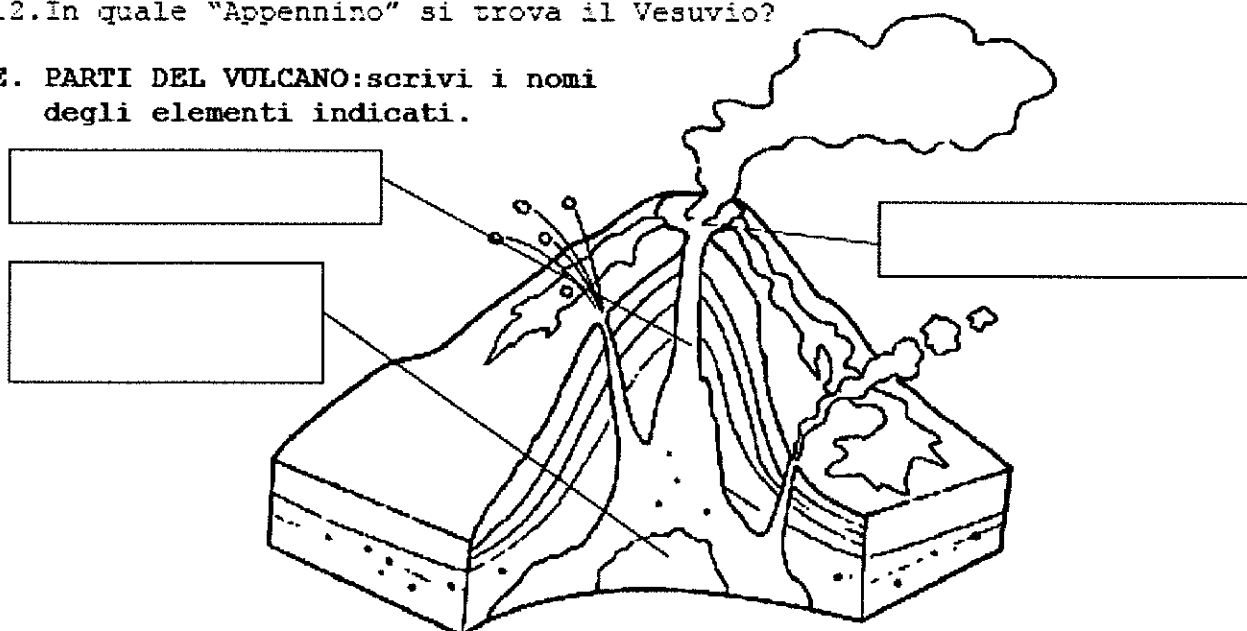
STRUTTAMENTO DELLE FORESTE	PESCA	PRODUZIONE DI ENERGIA IDROELETTRICA	SERVIZI ALBERGHIERI
----------------------------	-------	-------------------------------------	---------------------

APPENNINI

D. Rispondi.

6. Come vengono comunemente divisi gli Appennini?
7. Perché gli Appennini sono più bassi e meno appuntiti delle Alpi?
8. Da quale tipo di roccia, invece, sono formate le Alpi Apuane?
9. Come si chiamano i solchi scavati dai fiumi, tipici dell'Appennino Emiliano?
10. Su quale montagna si trova l'unico piccolo ghiacciaio appenninico?
11. Come si chiama il Parco naturalistico che ha per simbolo l'orso bruno marsicano?
12. In quale "Appennino" si trova il Vesuvio?

E. PARTI DEL VULCANO: scrivi i nomi degli elementi indicati.



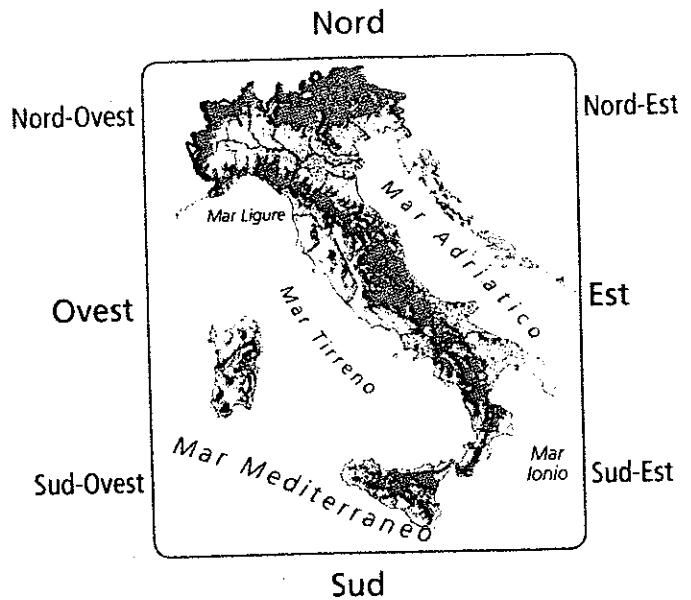
Punti / 12,5

LE MONTAGNE ITALIANE

1 Osserva la carta e completa il testo.


L'Italia presenta due grandi catene montuose:

- le Alpi si estendono da ovest a
e tracciano un arco che segna il confine tra l'..... e gli altri Paesi;
- gli
si estendono da
a sud-est e percorrono la penisola italiana al centro.



2 Riconosci nel disegno gli elementi elencati: scrivi il numero corrispondente. Colora di arancione gli elementi antropici (costruiti dall'uomo).

- 1 cima (o vetta)
- 2 cabinovia
- 3 ghiacciaio
- 4 passo (o valico)
- 5 strada
- 6 traforo
- 7 valle
- 8 versante (o pendio)

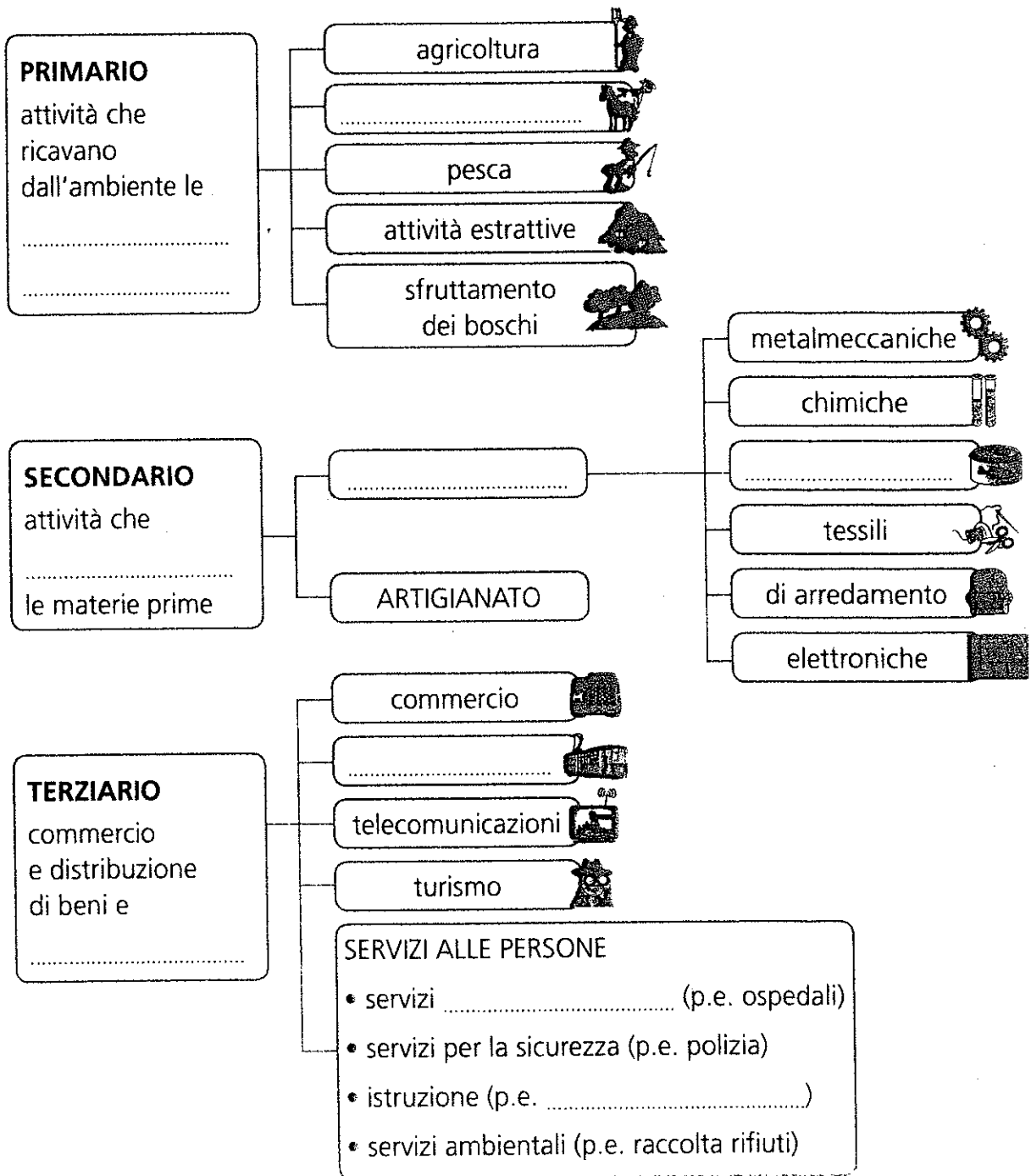


Nome Classe Data

I TRE SETTORI... IN SINTESI

1 Completa gli schemi di sintesi sui tre settori dell'economia scrivendo al posto giusto le parole nel riquadro. Osserva anche le immagini.

alimentari • allevamento • università
INDUSTRIE • materie prime • servizi
trasformano • trasporti • sanitari



Nome Classe Data

I TRE SETTORI DELL'ECONOMIA

1 Leggi il testo, poi completa la tabella scrivendo al posto giusto i nomi dei lavoratori elencati.

Ogni giorno incontri tante persone che svolgono lavori diversi. I lavori sono suddivisi in **tre settori**.

- Il **settore primario** raggruppa i lavori che servono per ricavare dalla natura ciò che può offrirci (**materie prime**).
Comprende: agricoltura, allevamento, pesca, sfruttamento dei boschi ed estrazione dei minerali dal sottosuolo.

- Il **settore secondario** riunisce i lavori che servono per trasformare le materie prime in prodotti finiti, come abiti, autoveicoli, mobili...
Le attività del settore secondario sono quelle **industriali** e quelle **artigianali**.
Nelle attività industriali il lavoro è svolto con l'aiuto di molti macchinari, in quelle artigianali è perlopiù fatto a mano dalle persone.

- Il **settore terziario** comprende tutti quei lavori che forniscono **beni e servizi** alle persone. Esistono servizi per l'educazione, la cultura, la salute, il tempo libero, l'informazione, i trasporti, il turismo, il commercio.



allevatore • tassista • contadino • falegname • giornalista
 insegnante • medico • minatore • negoziante • operaio di industria
 vetraio • pescatore • sarto • taglialegna • direttore di fabbrica

SETTORE PRIMARIO	SETTORE SECONDARIO	SETTORE TERZIARIO
.....
.....
.....
.....
.....

Nome Classe Data